



CONCURSO PÚBLICO PARA PROVIMENTO DE CARGOS DA PREFEITURA MUNICIPAL DE SANTA VITÓRIA – MG

NÍVEL FUNDAMENTAL

Códigos: 101 a 114

LEIA COM ATENÇÃO AS SEGUINTE INSTRUÇÕES

1. Este caderno contém as questões da **Prova Objetiva**.
2. Use a Folha de Respostas (versão do Candidato) reproduzida ao final deste caderno apenas para marcar o Gabarito.
3. Ao receber a **Folha de Respostas da Prova Objetiva**:
 - Confira seu nome, número de inscrição e cargo.
 - Assine, **A TINTA**, no espaço próprio indicado.

4. **ATENÇÃO:** transcreva no espaço apropriado da sua **FOLHA DE RESPOSTAS**, com sua caligrafia usual, mantendo as letras maiúsculas e minúsculas, desconsiderando aspas e autoria, a seguinte frase:

“Tenham paciência: o futuro é hoje.” Chico Anysio

ATENÇÃO:

FOLHA DE RESPOSTAS SEM ASSINATURA NÃO TEM VALIDADE.

5. Ao transferir as respostas para a **Folha de Respostas**:

01 A B C D • use apenas caneta esferográfica azul ou preta.

02 A B C D • preencha, sem forçar o papel, toda a área reservada à letra correspondente à resposta solicitada em cada questão.

03 A B C D • assinale somente **uma** alternativa em cada questão.

04 A B C D Sua resposta **NÃO** será computada se houver marcação de mais de uma alternativa, questões não assinaladas ou rasuras.

NÃO DEIXE NENHUMA QUESTÃO SEM RESPOSTA.

A **Folha de Respostas** não deve ser dobrada, amassada ou rasurada.

ATENÇÃO: Deverá ser resguardado o Período de Sigilo, não sendo permitido ao candidato se ausentar em definitivo da sala de provas antes de decorridas 1 (uma) hora do início das provas. Os candidatos não poderão utilizar, em hipótese alguma lápis, lapiseira, corretivos, borracha ou outro material distinto do constante no item 9.3.8 do Edital. Quaisquer acessórios como óculos escuros, boné, chapéu, gorro, lenço ou similares não terão seu uso permitido. As instruções constantes no Caderno de Questões e na Folha de Resposta, bem como as orientações e instruções expedidas pela FUNDEP durante a realização das provas, complementam este Edital e deverão ser rigorosamente observadas e seguidas pelo candidato. Será proibida, durante a realização das provas, qualquer espécie de consulta ou comunicação entre os candidatos ou entre estes e pessoas estranhas, oralmente ou por escrito, assim como não será permitido o uso de livros, códigos, manuais, impressos, anotações ou quaisquer outros meios. Será proibido, durante a realização das provas, fazer uso ou portar, mesmo que desligados, quaisquer equipamentos eletrônicos ou analógicos. Findo o horário-limite para a realização da prova, o candidato deverá entregar o Caderno de Questões e as Folhas de Respostas (da Prova Objetiva), esta última devidamente preenchida e assinada, ao Aplicador de Sala. Ao encerrar sua prova, o candidato deve deixar imediatamente as dependências em que a realizou, sendo proibida a utilização de celular e outros aparelhos eletrônicos até que termine esse trajeto. O candidato não poderá levar o seu Caderno de Questões da Prova e / ou anotações. Os três últimos candidatos deverão permanecer na sala até que o último candidato termine sua prova, ou que o prazo estabelecido para a prova se encerre, devendo todos assinar a Ata de Ocorrências da sala, atestando a idoneidade da fiscalização das provas, retirando-se da sala de prova de uma só vez.

O Caderno de Questões e o Gabarito da Prova Objetiva serão divulgados nos endereços eletrônicos <www.gestaodeconcursos.com.br>, bem como no site <www.santavitoria.mg.gov.br>.

DURAÇÃO MÁXIMA DA PROVA: 4 (QUATRO) HORAS

ATENÇÃO

Sr.(a) Candidato(a),

Antes de começar a fazer a prova, confira se este caderno contém, ao todo, **30 (trinta)** questões de múltipla escolha, cada uma constituída de 4 (quatro) alternativas de respostas, assim distribuídas: 10 (dez) questões de **Língua Portuguesa**, 10 (dez) questões de **Matemática**, 5 (cinco) questões de **Atualidades** e 5 (cinco) questões de **Aspectos Históricos e Geográficos de Santa Vitória**, todas perfeitamente legíveis.

Havendo algum problema, informe **imediatamente** ao aplicador de provas para que ele tome as providências necessárias.

Caso não observe essa recomendação, não lhe caberá qualquer reclamação ou recursos posteriores.

INSTRUÇÃO: Leia o texto a seguir para responder às questões de 1 a 7.

Um idoso na fila do Detran

“O senhor aqui é idoso”, gritava a senhora para o guarda, no meio da confusão na porta do Detran da Avenida Presidente Vargas, apontando com o dedo o tal “senhor”. Como ninguém protestasse, o policial abriu o caminho para que o velhinho enfim passasse à frente de todo mundo para buscar a sua carteira.

Olhei em volta e procurei com os olhos o velhinho, mas nada. De repente, percebi que o “idoso” que a dama solidária queria proteger do empurra-empurra não era outro senão eu.

Até hoje não me refiz do choque, eu que já tinha me acostumado a vários e traumáticos ritos de passagem para a maturidade: dos 40, quando em crise se entra pela primeira vez nos “enta”; dos 50, quando, deprimido, sabe que jamais vai se fazer outros 50 (a gente acha que pode chegar aos 80, mas aos 100?); e dos 60, quando um eufemismo diz que a gente entrou na “terceira idade”. Nunca passou pela minha cabeça que houvesse uma outra passagem, um outro marco, aos 65 anos. E, muito menos, nunca achei que viesse a ser chamado, tão cedo, de “idoso”, ainda mais numa fila do Detran.

Na hora, tive vontade de pedir à tal senhora que falasse mais baixo. Na verdade, tive vontade mesmo foi de lhe dizer: “idoso é o senhor seu pai”. O que mais irritava era a ausência total de hesitação ou dúvida. Como é que ela tinha tanta certeza? Que ousadia! Quem lhe garantia que eu tinha 65 anos, se nem pediu pra ver minha identidade? E o guarda paspalhão, por que não criou um caso, exigindo prova e documentos? Será que era tão evidente assim? Como, além de idoso, eu era um recém-operado, acabei aceitando ser colocado pela porta adentro. Mas confesso que furei a fila sonhando com a massa gritando, revoltada: “esse coroa tá furando a fila! Ele não é idoso! Manda ele lá pro fim!”. Mas que nada, nem um pio.

O silêncio de aprovação aumentava o sentimento de que eu era ao mesmo tempo privilegiado e vítima — do tempo. Me lembrei da manhã em que acordei fazendo 60 anos: “Isso é uma sacanagem comigo”, me disse, “eu não mereço.” Há poucos dias, ao revelar minha idade, uma jovem universitária reagira assim: “Mas ninguém lhe dá isso.” Respondi que, em matéria de idade, o triste é que ninguém precisa dar para você ter. De qualquer maneira, era um gentil consolo da linda jovem. Ali na porta do Detran, nem isso, nenhuma alma caridosa para me “dar” um pouco menos.

Subi e a mocinha da mesa de informações apontou para os balcões 15 e 16, onde havia um cartaz avisando: “Gestantes, deficientes físicos e pessoas idosas.” Hesitei um pouco e ela, já impaciente, perguntou: “O senhor não tem mais de 65 anos? Não é idoso?”

— Não, sou gestante — tive vontade de responder, mas percebi que não carregava nenhum sinal aparente de que tinha amamentado ou estava prestes a amamentar alguém. Saí resmungando: “não tenho mais, tenho só 65 anos.”

O ridículo, a partir de uma certa idade, é como você fica avaro em matéria de tempo: briga por causa de um mês, de um dia. “Você nasceu no dia 14, eu sou do dia 15”, já ouvi essa discussão.

Enquanto espero ser chamado, vou tentando me lembrar quem me faz companhia nesse triste transe. Ai, se não me falha a memória — e essa é a segunda coisa que mais falha nessa idade —, me lembro que Fernando Henrique, Maluf e Chico Anysio estariam sentados ali comigo. Por associação de ideias, ou de idades, vou recordando também que só no jornalismo, entre companheiros de geração, há um respeitável time dos que não entram mais em fila do Detran, ou estão quase não entrando: Ziraldo, Dines, Gullar, Evandro Carlos, Milton Coelho, Janio de Freitas (Lemos, Cony, Barreto, Armando e Figueiró já andam de graça em ônibus há um bom tempo). Sei que devo estar cometendo injustiça com um ou com outro — de ano, meses ou dias —, e eles vão ficar bravos. Mas não perdem por esperar: é questão de tempo.

Ah, sim, onde é que eu estava mesmo? “No Detran”, diz uma voz. Ah, sim. “E o atendimento?” Ah, sim, está mais civilizado, há mais ordem e limpeza. Mas mesmo sem entrar em fila passa-se um dia para renovar a carteira. Pelo menos alguma coisa se renova nessa idade.

VENTURA, Zuenir.

Disponível em: <www.contobrasileiro.com.br>.

Acesso em: 20 out. 2021.

QUESTÃO 1

Leia as seguintes afirmativas.

- I. Por se tratar de uma narrativa do cotidiano, pode-se considerar que o texto “Um idoso na fila do Detran” pertence ao gênero crônica.
- II. O narrador preferiria ser chamado de “coroa” do que de “idoso”.
- III. A história é narrada em terceira pessoa.
- IV. O narrador, ao longo do relato, reclama de ter de enfrentar a fila do Detran.

São corretas as afirmativas

- A) I e II, apenas.
- B) I e III, apenas.
- C) II e IV, apenas.
- D) I, II, III e IV.

QUESTÃO 2

Assinale a alternativa que apresenta um trecho do texto em que há ironia.

- A) “O senhor aqui é idoso”, gritava a senhora para o guarda, no meio da confusão na porta do Detran da Avenida Presidente Vargas, apontando com o dedo o tal “senhor”.
- B) O ridículo, a partir de uma certa idade, é como você fica avaro em matéria de tempo: briga por causa de um mês, de um dia. “Você nasceu no dia 14, eu sou do dia 15”, já ouvi essa discussão.
- C) — Não, sou gestante — tive vontade de responder, mas percebi que não carregava nenhum sinal aparente de que tinha amamentado ou estava prestes a amamentar alguém.
- D) Na hora, tive vontade de pedir à tal senhora que falasse mais baixo. Na verdade, tive vontade mesmo foi de lhe dizer: “idoso é o senhor seu pai”.

QUESTÃO 3

Assinale a alternativa que apresenta um trecho do texto no qual a falta do artigo em destaque mudaria o sentido da frase.

- A) Nunca passou pela minha cabeça que houvesse **uma** outra passagem, um outro marco, aos 65 anos. / Nunca passou pela minha cabeça que houvesse outra passagem, um outro marco, aos 65 anos.
- B) O ridículo, a partir de **uma** certa idade, é como você fica avaro em matéria de tempo... / O ridículo, a partir de certa idade, é como você fica avaro em matéria de tempo...
- C) Hesitei **um** pouco e ela, já impaciente, perguntou: "O senhor não tem mais de 65 anos? Não é idoso?" / Hesitei pouco e ela, já impaciente, perguntou: "O senhor não tem mais de 65 anos? Não é idoso?"
- D) "De qualquer maneira, era **um** gentil consolo da linda jovem." / De qualquer maneira, era gentil consolo da linda jovem.

QUESTÃO 4

Releia o seguinte trecho:

Subi e a mocinha da mesa de informações apontou para os balcões 15 e 16, onde havia um cartaz avisando: "Gestantes, deficientes físicos e pessoas idosas." **Hesitei** um pouco e ela, já impaciente, perguntou: "O senhor não tem mais de 65 anos? Não é idoso?"

A palavra destacada é sinônima de

- A) titubeei.
- B) exitei.
- C) lastimeei.
- D) conformei.

QUESTÃO 5

Releia o seguinte trecho:

Na hora, tive vontade de pedir à tal senhora que falasse mais baixo.

Nesse trecho, o emprego do acento grave indicador de crase é

- A) obrigatório, haja vista que sua ausência tornaria a frase ambígua.
- B) facultativo, porque o artigo que determina o substantivo "senhora" é dispensável.
- C) obrigatório, uma vez que indica a fusão necessária de uma preposição e um artigo.
- D) facultativo, pois a preposição "a" não é exigida pelo verbo "pedir".

QUESTÃO 6

Assinale a alternativa em que o termo destacado não tem a função sintática de objeto indireto.

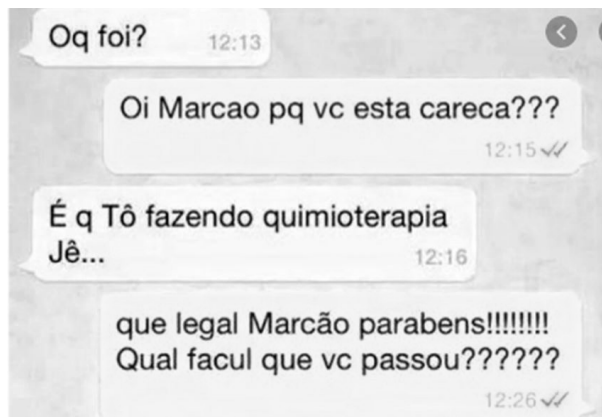
- A) Mas ninguém **lhe** dá isso.
- B) Na verdade, tive vontade mesmo foi de **lhe** dizer: "idoso é o senhor seu pai".
- C) Me lembrei **da manhã em que acordei fazendo 60 anos...**
- D) Pelo menos alguma coisa se renova **nessa idade**.

QUESTÃO 7

Assinale a alternativa em que as três palavras apresentadas são formadas por derivação sufixal.

- A) Certeza, sentimento e jornalismo.
- B) Ônibus, Detran e gestante.
- C) Baixo, guarda e injustiça.
- D) Idade, ordem e atendimento.

INSTRUÇÃO: Leia, a seguir, o trecho de um diálogo no WhatsApp, para responder às questões 8 e 9.



Disponível em: <www.delas.ig.com.br/comportamento>. Acesso em: 20 out. 2021.

QUESTÃO 8

A respeito desse diálogo, são feitas as seguintes afirmativas:

- I. Um dos interlocutores é universitário.
- II. Um dos interlocutores revela desconhecer o significado de uma palavra.
- III. Há apenas quatro palavras abreviadas nesse diálogo.
- IV. Os dois interlocutores cometeram um erro ao empregarem o vocativo.

São corretas as afirmativas

- A) I, II, e IV, apenas.
- B) II e IV, apenas.
- C) I, III e IV, apenas.
- D) I e III, apenas.


QUESTÃO 9

De acordo com a norma-padrão da língua portuguesa, nesse trecho de diálogo não ocorre um erro de

- A) concordância nominal.
- B) regência verbal.
- C) acentuação gráfica.
- D) emprego da vírgula.

QUESTÃO 10

Leia a charge a seguir.



Disponível em: <www.tribunadainternet.com.br>.
Acesso em: 20 out. 2021.

O tema desse texto é

- A) a crise provocada pela presença de militares no poder.
- B) o déficit econômico.
- C) a penalização de militares, pela perda de patente.
- D) a falência de empresas do ramo automotivo.

MATEMÁTICA

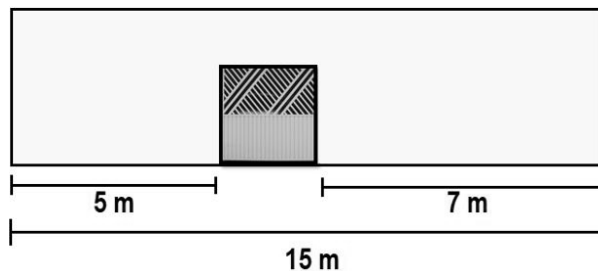
QUESTÃO 11

Ricardo tem um lote de 15 metros de comprimento e o dobro de largura. Ele vai colocar arame farpado em torno de todo o lote. A quantidade de arame farpado necessária para cercar esse lote é

- A) 90 m.
- B) 60 m.
- C) 450 m.
- D) 225 m.

QUESTÃO 12

Em um muro com 15 metros de comprimento foi colocado um portão quadrado, como apresentado na figura a seguir.



A área ocupada por esse portão é:

- A) 4 m².
- B) 9 m².
- C) 25 m².
- D) 49 m².

QUESTÃO 13

A prefeitura de uma cidade comprou 36 000 vacinas para imunizar as pessoas contra a gripe em uma campanha de vacinação que durou dois dias. No primeiro dia, foram vacinadas 12 345 pessoas e, no segundo dia, foram vacinadas 5 786 pessoas a mais que no primeiro dia.

Quantas vacinas sobraram depois dos dois dias de campanha?

- A) 5 524.
- B) 7 744.
- C) 17 096.
- D) 17 869.

QUESTÃO 14

Na compra de um livro e um caderno, Carolina pagou R\$100,00. O preço do livro é igual ao triplo do preço do caderno.

Qual é o preço do livro?

- A) R\$ 25,00.
- B) R\$ 50,00.
- C) R\$ 75,00.
- D) R\$ 90,00.

QUESTÃO 15

Um estádio de futebol tem capacidade para 35 000 pessoas. Em um jogo, o público foi de 23 436 pessoas, mas somente $\frac{2}{3}$ delas era pagante.

Sendo assim, quantas pessoas compraram ingresso?

- A) 7 176.
- B) 7 812.
- C) 15 624.
- D) 20 408.

QUESTÃO 16

José acertou 12 arremessos à cesta em um jogo de basquete. $\frac{2}{3}$ deles eram de 2 pontos cada, e os restantes

de 3 pontos cada.

Quantos pontos José fez no total?

- A) 8.
- B) 16.
- C) 20.
- D) 28.

QUESTÃO 17

Letícia tem uma coleção de bonecas típicas de vários países. Dessas bonecas, $\frac{1}{4}$ são de países da América do Sul.

A porcentagem de bonecas da América do Sul da coleção de Letícia é

- A) 14%.
- B) 20%.
- C) 25%.
- D) 40%.

QUESTÃO 18

Michele comprou alguns produtos no mercado. Ao passar pelo caixa, ela acompanhou na tela a quantidade e o valor dos produtos adquiridos, que foram.

| Produtos | Quantidade (kg) | Valor a pagar (R\$) |
|----------|-----------------|---------------------|
| Banana | 1,45 | 5,79 |
| Laranja | 1,50 | 2,24 |
| Maçã | 0,50 | 0,40 |
| Limão | 1,54 | 1,37 |

De acordo com a tabela, assinale a alternativa correta.

- A) A quantidade de produtos é inferior a 5 kg.
- B) A quantidade de laranja é duas vezes a de maçã.
- C) A quantidade de banana é maior do que a de limão.
- D) A quantidade gasta com as compras foi superior a R\$ 10,00.

QUESTÃO 19

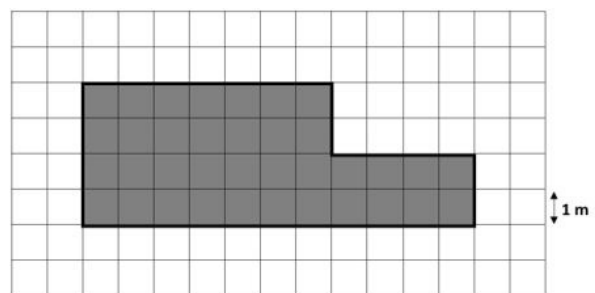
Cristóvão está participando do bingo beneficente da escola de seu bairro com uma cartela. Existem 24 números diferentes nela, e ele já marcou 25% deles.

A quantidade de números que Cristóvão ainda tem para marcar em sua cartela de bingo para preenchê-la por completo é igual a:

- A) 4.
- B) 6.
- C) 12.
- D) 18.

QUESTÃO 20

Observe, a seguir, a representação de um terreno gramado.



Cada m² de grama demora, em média, cinco minutos para ser cortado. Sendo assim, qual é o tempo previsto para cortar toda a grama desse terreno?

- A) 30 minutos.
- B) 40 minutos.
- C) 140 minutos.
- D) 180 minutos.

ATUALIDADES

QUESTÃO 21

Na região de Santa Vitória, localiza-se uma usina geradora de energia cuja fonte é:

- A) Eólica
- B) Hídrica
- C) Nuclear
- D) Solar

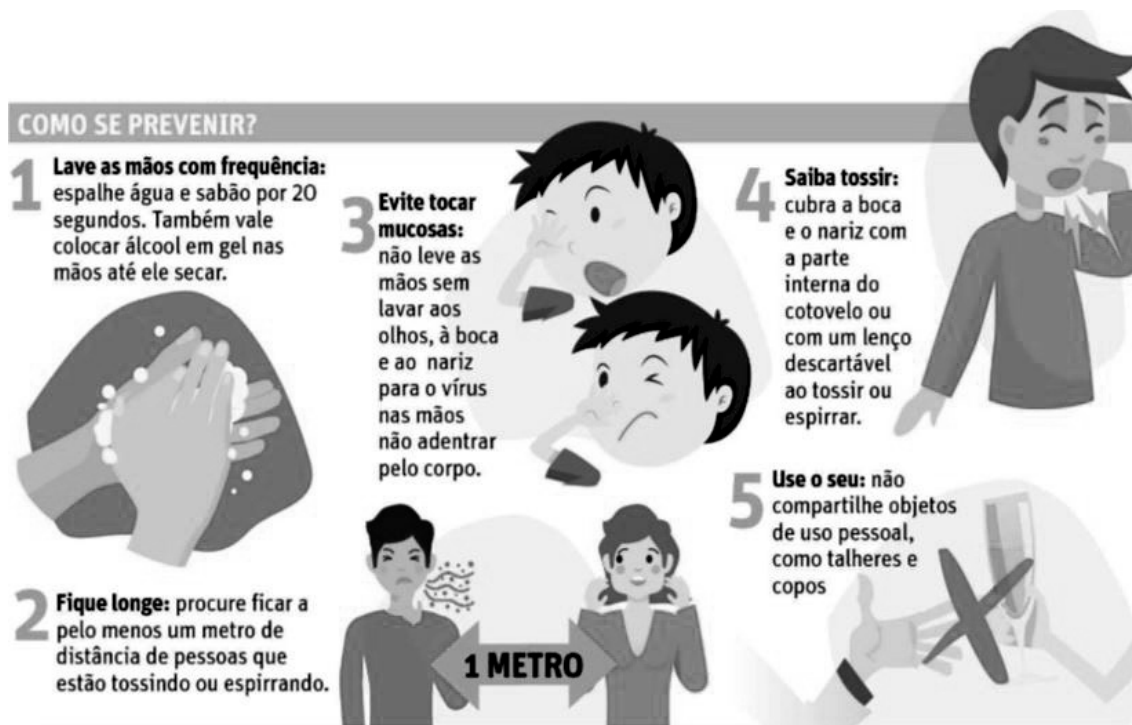
QUESTÃO 22

Nos meios de transporte terrestre no Brasil são utilizados vários tipos de combustível. Entre estes, o único combustível renovável é o(a):

- A) Álcool
- B) Gás natural (GNV)
- C) Gasolina
- D) Óleo diesel (gasóleo)

QUESTÃO 23

Analise a imagem a seguir.



Disponível em: <<http://digital.otempo.com.br/leitor/#!/jornais/1/edicoes/15025>>. p. 9. Acesso em: 20 out. 2021.

Esta imagem apresenta cuidados necessários para a prevenção da disseminação de doenças como:

- A) Covid-19 e Chikungunya.
- B) Dengue e Sarampo.
- C) Gripes e Covid-19.
- D) H1N1 e Zika.

QUESTÃO 24

Os 5 Rs são verbos que propõem a redução de resíduos gerados no planeta, por meio da mudança de comportamento diante do consumo e do manejo desses resíduos.

O verbo ligado aos 5 Rs que melhor define a imagem a seguir é:



Garrafas pet aproveitadas como vasos de planta. Disponível em: <<https://educador.brasilecola.uol.com.br/estrategias-ensino/educacao-ambiental-os-5-rs.htm>>. Acesso em: 20 out. 2021.

- A) Reciclar.
- B) Recusar.
- C) Reduzir.
- D) Reutilizar.

QUESTÃO 25

O ano de 2020 foi um ano bissexto. Ano bissexto é um fenômeno que ocorre quando:

- A) As festas de carnaval coincidem com o mês de fevereiro.
- B) Acontece a elevação das temperaturas devido ao fenômeno climático El Niño.
- C) É acrescentado um dia a mais no calendário, no mês de fevereiro.
- D) No Brasil, acontecem eleições municipais, para prefeituras e câmaras.

ASPECTOS HISTÓRICOS E GEOGRÁFICOS DE SANTA VITÓRIA

QUESTÃO 26

Durante o período colonial brasileiro, a cidade de Santa Vitória foi ocupada por:

- A) Bandeirantes em busca de metais preciosos.
- B) Emboabas fugindo dos paulistas.
- C) Fazendeiros produtores de alimentos
- D) Índios Caiapós.

QUESTÃO 27

“O município foi criado pela Lei Estadual n° 336 de 27 de dezembro de 1948.”

Revista do Patrimônio Cultural da Cidade de Santa Vitória (MG), p. 18. Disponível em: <<https://www.santavitoria.mg.gov.br/wp-content/uploads/2020/02/REVISTA-DIGITAL-REVISADA-12022020.pdf>>. Acesso em: 21 out. 2021.

Antes de se tornar município, Santa Vitória era um distrito do município de

- A) Ituiutaba.
- B) Ipiacu.
- C) Quirinópolis.
- D) São Simão.

QUESTÃO 28



Disponível em: <<https://www.santavitoria.mg.gov.br/o-municipio/>>. Acesso em: 6 fev. 2021.

No brasão do município de Santa Vitória está escrito: “Santa Vitória-MG, o vale da alimentação.” A alimentação nele representada pode ser vista nos símbolos alusivos a algumas atividades, exceto:

- A) Agricultura.
- B) Eletricidade.
- C) Pecuária.
- D) Pesca.

QUESTÃO 29

O reservatório de São Simão, pertencente à Usina de São Simão, foi formado pelo represamento das águas do Rio

- A) Grande.
- B) Paranaíba.
- C) Ribeirão da Invernada.
- D) Tijuco.

QUESTÃO 30

“A Mesorregião Triângulo Mineiro / Alto Paranaíba é formada por 66 municípios que, por sua vez, estão organizados em sete microrregiões [...]”.

Revista do Patrimônio Cultural da cidade de Santa Vitória (MG), p. 39. Disponível em: <<https://www.santavitoria.mg.gov.br/wp-content/uploads/2020/02/REVISTA-DIGITAL-REVISADA-12022020.pdf>>. Acesso em: 30 dez. 2020.

O município de Santa Vitória se localiza na Mesorregião de

- A) Frutal.
- B) Ituiutaba.
- C) Patrocínio.
- D) Uberlândia.

FOLHA DE RESPOSTAS (VERSÃO DO CANDIDATO)

| | | | | | | | | | |
|----|--------------------------|--------------------------|--------------------------|--------------------------|----|--------------------------|--------------------------|--------------------------|--------------------------|
| 1 | A | B | C | D | 16 | A | B | C | D |
| | <input type="checkbox"/> | <input type="checkbox"/> | <input type="checkbox"/> | <input type="checkbox"/> | | <input type="checkbox"/> | <input type="checkbox"/> | <input type="checkbox"/> | <input type="checkbox"/> |
| 2 | A | B | C | D | 17 | A | B | C | D |
| | <input type="checkbox"/> | <input type="checkbox"/> | <input type="checkbox"/> | <input type="checkbox"/> | | <input type="checkbox"/> | <input type="checkbox"/> | <input type="checkbox"/> | <input type="checkbox"/> |
| 3 | A | B | C | D | 18 | A | B | C | D |
| | <input type="checkbox"/> | <input type="checkbox"/> | <input type="checkbox"/> | <input type="checkbox"/> | | <input type="checkbox"/> | <input type="checkbox"/> | <input type="checkbox"/> | <input type="checkbox"/> |
| 4 | A | B | C | D | 19 | A | B | C | D |
| | <input type="checkbox"/> | <input type="checkbox"/> | <input type="checkbox"/> | <input type="checkbox"/> | | <input type="checkbox"/> | <input type="checkbox"/> | <input type="checkbox"/> | <input type="checkbox"/> |
| 5 | A | B | C | D | 20 | A | B | C | D |
| | <input type="checkbox"/> | <input type="checkbox"/> | <input type="checkbox"/> | <input type="checkbox"/> | | <input type="checkbox"/> | <input type="checkbox"/> | <input type="checkbox"/> | <input type="checkbox"/> |
| 6 | A | B | C | D | 21 | A | B | C | D |
| | <input type="checkbox"/> | <input type="checkbox"/> | <input type="checkbox"/> | <input type="checkbox"/> | | <input type="checkbox"/> | <input type="checkbox"/> | <input type="checkbox"/> | <input type="checkbox"/> |
| 7 | A | B | C | D | 22 | A | B | C | D |
| | <input type="checkbox"/> | <input type="checkbox"/> | <input type="checkbox"/> | <input type="checkbox"/> | | <input type="checkbox"/> | <input type="checkbox"/> | <input type="checkbox"/> | <input type="checkbox"/> |
| 8 | A | B | C | D | 23 | A | B | C | D |
| | <input type="checkbox"/> | <input type="checkbox"/> | <input type="checkbox"/> | <input type="checkbox"/> | | <input type="checkbox"/> | <input type="checkbox"/> | <input type="checkbox"/> | <input type="checkbox"/> |
| 9 | A | B | C | D | 24 | A | B | C | D |
| | <input type="checkbox"/> | <input type="checkbox"/> | <input type="checkbox"/> | <input type="checkbox"/> | | <input type="checkbox"/> | <input type="checkbox"/> | <input type="checkbox"/> | <input type="checkbox"/> |
| 10 | A | B | C | D | 25 | A | B | C | D |
| | <input type="checkbox"/> | <input type="checkbox"/> | <input type="checkbox"/> | <input type="checkbox"/> | | <input type="checkbox"/> | <input type="checkbox"/> | <input type="checkbox"/> | <input type="checkbox"/> |
| 11 | A | B | C | D | 26 | A | B | C | D |
| | <input type="checkbox"/> | <input type="checkbox"/> | <input type="checkbox"/> | <input type="checkbox"/> | | <input type="checkbox"/> | <input type="checkbox"/> | <input type="checkbox"/> | <input type="checkbox"/> |
| 12 | A | B | C | D | 27 | A | B | C | D |
| | <input type="checkbox"/> | <input type="checkbox"/> | <input type="checkbox"/> | <input type="checkbox"/> | | <input type="checkbox"/> | <input type="checkbox"/> | <input type="checkbox"/> | <input type="checkbox"/> |
| 13 | A | B | C | D | 28 | A | B | C | D |
| | <input type="checkbox"/> | <input type="checkbox"/> | <input type="checkbox"/> | <input type="checkbox"/> | | <input type="checkbox"/> | <input type="checkbox"/> | <input type="checkbox"/> | <input type="checkbox"/> |
| 14 | A | B | C | D | 29 | A | B | C | D |
| | <input type="checkbox"/> | <input type="checkbox"/> | <input type="checkbox"/> | <input type="checkbox"/> | | <input type="checkbox"/> | <input type="checkbox"/> | <input type="checkbox"/> | <input type="checkbox"/> |
| 15 | A | B | C | D | 30 | A | B | C | D |
| | <input type="checkbox"/> | <input type="checkbox"/> | <input type="checkbox"/> | <input type="checkbox"/> | | <input type="checkbox"/> | <input type="checkbox"/> | <input type="checkbox"/> | <input type="checkbox"/> |

AO TRANSFERIR ESSAS MARCAÇÕES PARA A FOLHA DE RESPOSTAS,
OBSERVE AS INSTRUÇÕES ESPECÍFICAS DADAS NA CAPA DA PROVA.

USE CANETA ESFEROGRÁFICA AZUL OU PRETA.

**ATENÇÃO:
AGUARDE AUTORIZAÇÃO
PARA VIRAR O CADERNO DE PROVA.**